

Questão 1

Hoje em dia, mesmo com todas as mudanças pelas quais passa a economia mundial, os Estados Unidos ainda são a maior economia do mundo, isto é, o país com o maior produto interno bruto. Qual país ocupa a segunda posição?

- a) Alemanha
- b) França
- c) Brasil
- d) China
- e) África do Sul

Questão 2

Segundo o mapa, qual a região mais industrializada do Brasil?



- a) Sudeste e Sul
- b) Nordeste
- c) Planalto Central
- d) Amazônia
- e) Bacia do Rio Paraná

Questão 3

Em um determinado mercado, a demanda de um bem é dada por $Q_d = 10 - 3P$, sendo P o preço desse bem. A oferta desse bem é dada por $Q_p = 5 + 2P$. O preço de equilíbrio de um bem é aquele para o qual a oferta é igual à demanda. Assim, o preço de equilíbrio desse mercado é:

- a) 1
- b) 2
- c) 3

- d)5
- e)8

Questão 4

Muitas das crises entre nações têm natureza econômica, social e religiosa, todas causando conflitos severos. A saída bélica raramente atenua a tensão, ao contrário, ela aumenta. Há vários líderes mundiais comprometidos em buscar saídas diplomáticas, o que requer uma articulação política baseada em confiança mútua, em falar a verdade, em ser transparente, o que em tese é simples, mas é bastante complexo.

Nosso país também atravessa uma grave crise política em que algumas das palavras-chave são confiança e credibilidade, ou mais especificamente a fragilidade de seus conceitos. Podemos dizer que um tema central é o combate a corrupção, e todos parecem concordar que a corrupção é um grande mal que deve ser enfrentado energicamente.

Entretanto, corrupção é um câncer que atua não só na política, mas em todas as áreas de nossa sociedade, e que tem profundas raízes culturais às quais infelizmente nos acostumamos desde a juventude. Um grande exemplo de que temos no Brasil um ambiente permissivo à quebra de leis e regras é o que ocorre com provas e trabalhos em nosso sistema educacional. Há uma aparente apologia à transgressão, na maioria das vezes quem viola as regras se dá bem, e vê isto com absoluta naturalidade. Isto não está correto, e todos que corroboram com este processo também estão errados.

Na 1ª edição da OBEcon, estamos convocando todos os professores e alunos a exercitar a confiança e a desafiar suas convicções de que uma prova não pode ser aplicada sem fiscalização. Se queremos um país melhor temos que começar por nós mesmos. E a comissão organizadora da OBEcon quer começar confiando nas escolas, nos professores e nos estudantes do Brasil, pois sabemos que todos queremos um país melhor e mais decente. Nesta primeira fase da Olimpíada é permitido aos alunos fazerem a prova fora da escola, no local que escolherem e na hora que escolherem. Em algumas das instituições mais respeitadas do mundo há os chamados códigos de honra, um conjunto de condutas que os ingressantes se comprometem a adotar. Esta experiência também ocorre no Brasil, e nossa proposta aqui é que a OBEcon seja uma ferramenta que nos ajude a refletir sobre o que a sociedade pode fazer para extinguir a corrupção sistêmica no Brasil. A OBEcon se propõe a criar um código de honra com todos os participantes.

Sendo assim, esta primeira questão da prova só tem uma alternativa, pois quando se pensa em integridade, honestidade e dignidade, só há uma resposta correta. Assinale-a e, ao fazer isso, reflita sobre a consequência de suas atitudes para o futuro melhor que todos tanto queremos para o Brasil.

a)

Ao fazer a prova da OBEcon, estou me comprometendo a fazer o meu melhor, de modo individual, dentro do tempo estabelecido, sem me utilizar de recursos extras (outras pessoas, livros ou pesquisas na internet). Concordo em fazer minha parte para que o código de honra se aplique, estarei agindo do modo correto, me orgulharei da minha atitude e a usarei como referência para outras decisões de minha vida. Independentemente do resultado que eu venha a ter nesta prova, o maior benefício para mim será a certeza de ter agido dentro de preceitos rigorosamente morais e éticos, e isso não depende do julgamento de outras pessoas.

b)

c)

d)

e)

Questão 5

O Governo Federal vinculou o preço interno dos combustíveis ao preço do petróleo no mercado internacional. Como o preço do petróleo tem subido bastante, também subiram os preços dos combustíveis derivados do petróleo no Brasil, gerando uma onda de protestos. Prevendo a escassez

destes combustíveis, muitos consumidores passaram a ser precaver e diminuir o consumo. E assim também procedeu nosso personagem hipotético, o Sr. Econômico.

O computador de bordo do carro do Sr. Econômico calcula quantos quilômetros o carro ainda pode andar antes da pane seca (quando o combustível se esgota completamente). O computador faz este cálculo assumindo que o carro manterá o mesmo consumo médio de combustível desde o último momento em que foi abastecido. Este indicador chama-se “km até vazio”.

Desta forma, paradoxalmente, é possível que o carro ande por mais alguns quilômetros e, por incrível que pareça, a quantidade de quilômetros até a pane seca aumente (!). Pense...isto é realmente possível! Basta que o Sr. Econômico passe a gastar menos combustível em arrancadas e freadas bruscas que ele poderá realmente diminuir seu consumo médio de combustível, e o computador mostrará esta economia no indicador km até vazio.

Suponha que o carro tenha sido abastecido com 100 litros de combustível, e que, a partir deste abastecimento, o consumo médio tenha sido apenas 4 km/l durante 100 km devido a trânsito congestionado. Desta forma o indicador “km até vazio” indica 300 km.

De quanto deve ser a velocidade média nos próximos 20 minutos, período no qual o carro consome mais 5 litros de combustível, de modo que o indicador “km até vazio” se altere para 308 km?

- a)96 km/h
- b)80 km/h
- c)72 km/h
- d)60 km/h
- e)54 km/h

Questão 6



A Rússia sediará a próxima copa do mundo de futebol. Abaixo se encontram os 8 grupos da primeira fase. Se, em vez de futebol, a Copa do Mundo relevasse outras diferenças entre os países participantes, os resultados seriam bem diferentes dos do gramado.



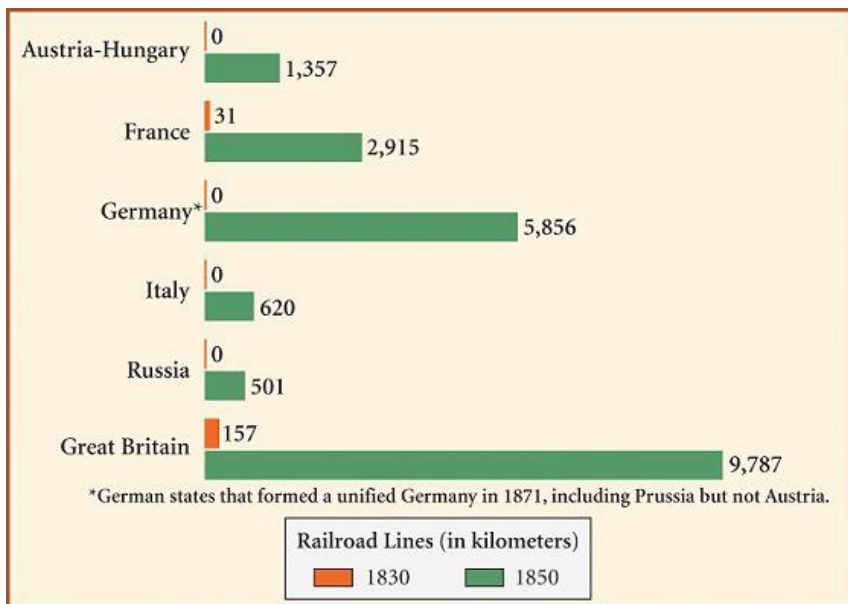
Considerando uma hipotética Copa do Mundo de indicadores econômicos, em que apenas os dois países melhor qualificados de cada grupo se classificam para a próxima fase, assinale a alternativa INCORRETA:

- Se o indicador fosse PIB (Produto Interno Bruto), no grupo F os classificados seriam Alemanha e Coreia do Sul.
- Se o indicador fosse Renda Per Capita, no grupo B os classificados seriam Portugal e Espanha.
- Se o indicador fosse IDH (Índice de Desenvolvimento Humano), no grupo G os classificados seriam Inglaterra e Bélgica.
- Se o indicador fosse estabilidade da economia, no grupo H os classificados seriam Japão e Polônia.
- Se o indicador fosse volume total de exportações, no grupo D os classificados seriam Nigéria e Islândia.

Questão 7

As ferrovias caracterizaram-se por serem essenciais seja no transporte de passageiros, seja no de mercadorias. Surgidas no século XIX na Europa, difundiram-se com uma importante infraestrutura para qualquer país.

O gráfico a seguir elenca, em total de quilômetros, a malha ferroviária de alguns países europeus no século em dois momentos do século XIX: 1830 e 1850.



A partir da análise do gráfico e de seus conhecimentos, podemos afirmar que:

- Itália, Áustria-Hungria e Alemanha tinham um eficaz sistema de rodovias até 1830.
- Em virtude de seu tamanho continental, a Rússia preocupava-se com o transporte e abastecimento local.
- A França experimentou o maior salto percentual na extensão de sua malha ferroviária entre 1830 e 1850.
- O crescimento da malha ferroviária germânica foi consequência única de seu aumento populacional.
- O crescimento da malha ferroviária a partir de 1850 está relacionado ao processo de industrialização que difunde pela Europa.

Questão 8

Sediar uma Copa do Mundo de futebol requer uma série de investimentos, mas também potencializa uma série de receitas para o país sede. É conveniente então que se faça um grande estudo para que os investimentos feitos beneficiem a população depois do evento e maximizem os ganhos não só durante o evento, mas no futuro. Isso pode ser feito observando a experiência de outros países que já sediaram a copa do mundo e buscando um equilíbrio que foca os investimentos nos pontos de menor risco e com maior potencial de ganho.

Em 14 de julho de 2014, o jornal Folha de São Paulo publicou uma tabela mostrando os prós e contras de sediar uma copa do mundo de futebol.

Incremento à Economia Brasileira

Editoria de Arte/Folhapress

PERDAS E GANHOS

Estimativa do impacto da Copa para diferentes setores da economia

	 Comércio	 Indústria de eletroeletrônicos	 Construção civil	 Aviação
Ganhos ↑	Lojas de artigos de uso pessoal e doméstico esperam receita de R\$ 863 milhões, diz confederação do comércio	Produção de eletrodomésticos, especialmente de TVs, cresceu 20,9% em abril deste ano sobre 2013, segundo fabricantes	Setor movimentou R\$ 35 bilhões desde 2007, quando Brasil foi anunciado para sediar a Copa 2014	Investimentos na ampliação da infraestrutura de aeroportos, como o novo terminal de Guarulhos
Perdas ↓	64 feriados em 12 cidades-sede prejudicam varejo, diz Fecomercio; em SP, vendas caíram 12,9% de maio a junho	58% das empresas do setor (inclui computadores e celulares) estimam perdas com a mudanças na produção devido aos jogos	Efeito das obras não se estendeu na cadeia e não ajudou a reverter queda nas vendas na indústria de máquinas	Empresas de helicóptero e aeronaves privadas estimam queda de até 60% no movimento ante 2013
	 Empresas exportadoras	 Turismo e hotelaria	 Bares e restaurantes	
Ganhos ↑	Evento deve atrair US\$ 6 bilhões em novos negócios, entre exportação e investimentos, segundo a Apex	Desembolsos devem chegar a R\$ 6,7 bi com a vinda de 600 mil estrangeiros ao Brasil e 3,1 milhões de turistas locais	A expectativa era faturar R\$ 12 bilhões durante a Copa, e quase um terço desse valor em São Paulo, segundo setor	
Perdas ↓	Não divulgado pela agência de promoção à exportação	Em cidades como São Paulo, Curitiba e Recife a ocupação caiu em junho devido à antecipação de eventos de negócios	Restaurantes mais sofisticados tiveram perdas de até 50% em algumas das cidades que sediaram os jogos	

Fonte: Entidades setoriais

Fonte: Folha de São Paulo – 14/07/2014

<http://www1.folha.uol.com.br/poder/2014/07/1485486-copa-do-mundo-injeta-r-30-bilhoes-na-economia-brasileira-diz-fipe.shtml>

Sobre os benefícios de sediar uma copa do mundo de futebol, qual das alternativas abaixo não é pertinente?

a)

Apesar do evento ter um grande apelo na rede hoteleira, com a vinda de muitos turistas, há de se tomar cuidado com investimentos em hotéis pois, após a passagem da copa que é um evento de pico, tende a haver uma ociosidade na rede, principalmente em cidades menores.

b)

A presença de muitos turistas do mundo inteiro tende a pressionar os preços para cima, mas se o comércio todo age de maneira a explorar esta demanda, acaba causando um efeito ruim a longo prazo, pois os turistas voltam a seus países de origem e acabam não recomendando visitas ao país sede.

c)

A escolha de cidades sede para os jogos deve equilibrar parâmetros como infraestrutura já existente e ganhos pós-evento, observando-se também a possível ociosidade das estruturas

que vierem a ser construídas.

d)

O país sede não deve poupar esforços para oferecer a melhor estrutura possível para o evento, pois qualquer excesso será pequeno diante dos benefícios que virão a partir de uma boa recepção aos turistas.

e)

É natural que haja um pico na venda de TVs de última geração em meses que antecedam a copa do mundo, mas os ganhos devem considerar a queda das vendas no período pós-copa, pois há um deslocamento da curva natural de compra com muitos consumidores antecipando suas necessidades.

Questão 9

Portfólio (ou carteira de investimentos) é um dos conceitos mais básicos da gestão de ativos financeiros. Este representa um conjunto de títulos escolhidos por um investidor.

Agora, propoem-se a situação em que um investidor percebe que sua carteira de investimentos, a qual inicialmente investiu R\$ 5000,00, desvalorizou 10%, ficando em R\$ 4.500,00.

Quanto este investidor precisa que seus ativos valorizem para que ele volte a ter o capital inicial investido?

a)

15%

b)

11,11%

c)

10%

d)11,11 p.p

e)Nenhuma das anteriores.

Questão 10

O capitalismo é um sistema que passa por crises ao longo do tempo. Uma das famosas e impactantes foi a Crise de 1929. Surgida a partir da quebra da Bolsa de Nova Iorque, ela levou uma onda de choque sobre todo o mundo capitalista - chegando a afetar, inclusive, a economia agroexportadora de café do Brasil.

No epicentro da crise, a economia dos Estados Unidos foi fortemente abalada. Após a Primeira Guerra Mundial (1914-1918), ela passou por anos de crescimento contínuo até o *crash* de 29. O impacto pode ser verificado pelo PIB estadunidense que vivenciou a chamada Grande Depressão.

O PIB, Produto Interno Bruto, corresponde ao somatório de tudo o que foi produzido em um determinado país durante um ano. Logo a seguir, apresentamos o PIB dos EUA entre os anos de 1929 e 1939:

1929: 103.6 bilhões de dólares

1930: 91.2 bilhões de dólares

1931: 76.5 bilhões de dólares

1932: 58.7 bilhões de dólares

1933: 56.4 bilhões de dólares

1934: 66.0 bilhões de dólares

1935: 73.3 bilhões de dólares

1936: 83.8 bilhões de dólares

1937: 91.9 bilhões de dólares

1938: 86.1 bilhões de dólares

1939: 92.2 bilhões de dólares

Com base em seus conhecimentos e nos dados acima, podemos afirmar que:

- a)
O impacto negativo da ascensão do nazismo na Alemanha levou a instabilidade do mercado estadunidense.
- b)
O período posterior à I Guerra Mundial somente prejudicou o desenvolvimento industrial estadunidense.
- c)
Vivia-se a época do *American Way of Life*, com os expressivos índices econômicos reinantes.
- d)
O impacto do *New Deal* fez com que a economia dos EUA vivenciasse momentos intercalando recuperação com recessão.
- e)
A socialização dos meios de produção, proposta pelo presidente Franklin Delano Roosevelt, foi uma medida fundamental para o fim da Grande Depressão.

Questão 11

Germano recebe a recomendação de seu gerente de conta bancária para trocar de investimento. Ele sabe que seus investimentos rentabilizaram 24% durante o ano de 2017, e seu gerente está lhe recomendando um título que rentabiliza 1,5% ao mês.

Qual a rentabilidade mensal do investimento de Germano? Vale a pena para ele trocar de investimento?

- a)
1% e sim.
- b)
1,8% e sim.
- c) 1,8% e não.
- d)
2% e sim.
- e)
2% e não.

Questão 12

A usura é o empréstimo de dinheiro a juros considerados excessivos. Essa prática recebeu condenações ao longo da História.



"Os usurários", pintura de Quentin Metsys

Excerto 01

Código de Hamurabi - *Se alguém tiver um débito de empréstimo e uma tempestade prostrar os grãos ou a colheita for ruim ou os grãos não crescerem por falta d'água, naquele ano a pessoa não precisa*

dar ao seu credor dinheiro algum, ele devendo lavar sua tábua de débito na água e não pagar aluguel naquele ano.

Excerto 02

Código de Manu - Os juros estipulados para além da taxa legal contra [a lei], não podem ser recuperados: eles chamam isso de um modo usurário [de emprestar].

Excerto 03

Alcorão (4, 161) E por cobrarem juros, embora lhes fosse proibido, e por usurparem sob falsos pretextos os bens alheios, destinamos aos descrentes entre eles um castigo doloroso.

Excerto 04

Segundo Concílio de Latrão (1139) - Cânone 13. Além disso, condenamos essa prática considerada desprezível e condenável pelas leis divinas e humanas, denunciada pela Escritura no Antigo e no Novo Testamento, a saber, a ganância feroz dos usurários; e nós os cortamos de todo conforto da igreja, proibindo qualquer arcebispo ou bispo, ou um abade de qualquer ordem, seja qual for, ou alguém em ordens clericais, de ousar receber usurários, a menos que o façam com extrema cautela; mas que sejam mantidos infames durante toda a vida e, a menos que se arrependam, sejam privados de um enterro cristão.

Podemos afirmar que a usura chegou a ser condenada:

- a) pelos mesopotâmicos, especialmente pelo Código de Hamurabi.
- b) pelos hindus, por meio das Leis de Manu.
- c) pelos católicos, no Segundo Concílio de Latrão.
- d) pelos islâmicos, no Alcorão.
- e) todas as alternativas anteriores estão corretas.

Questão 13

Valor futuro é o termo utilizado para indicar o montante que uma aplicação terá após determinado tempo, taxa de juros e capital investido. Encontre o valor futuro aproximado que um jovem encontrará em uma aplicação de 30 anos, sem investimento inicial, investindo R\$ 300,00 por mês a uma taxa de juros fixa de 1% ao mês.

- a) R\$ 1.000.000,00
- b) R\$ 500.000,00
- c) R\$ 1.500.000,00
- d) R\$ 732.000,00
- e) mais de R\$ 2.000.000,00.

Questão 14

A Futurolândia é um país incrível. Suas riquezas, únicas; seu povo, cordial; seu futuro, glorioso. Contudo, essa terra mágica não está livre de problemas. Nos últimos anos, Futurolândia foi tomada por uma grave crise econômica. O povo futurolandino nunca tinha visto tamanho caos. Com medo, todos pensaram no futuro com toda radicalidade. Para evitar situações piores, decidiram economizar todos os seus salários, evitando comprar ou fazer quaisquer tipos de investimentos, mesmo os minimamente arriscados. Nesta situação de plena mobilização nacional por poupar tudo o que

possuem, podemos afirmar que Futurolândia:

- a) tendencialmente sairá da crise mais rapidamente possível.
- b) tendencialmente agravará ainda mais a sua crise econômica.
- c) não passará por nenhum impacto econômico neste cenário.
- d) inicialmente passará por um agravamento da crise, mas retomará o crescimento intenso em poucos meses.
- e) tem na poupança coletiva a base para a estabilização econômica.

Questão 15

Esopo (620 a.C. - 564 a.C.) foi um escritor grego antigo conhecido por suas fábulas. Com grande influência na cultura ocidental, suas histórias ainda são extremamente populares e bem conhecidas. Uma das mais famosas é a fábula da Formiga e da Cigarra.



No Inverno, a Formiga tirava os grãos de trigo fora de sua cova para os secar, quando surgiu a Cigarra que implorava que repartisse aquela comida com ela, porque temia morrer de fome.

A Formiga perguntou a ela o que havia feito durante a Primavera e o Verão, já que não guardara alimento para se manter. A Cigarra respondeu: - A Primavera e o Verão gastei cantando e brincando pelos campos.

A Formiga então, continuando a recolher seu trigo, lhe disse: - Companheira, se aqueles seis meses gastaste em cantar e bailar, como se fosse comida saborosa e a seu gosto, que agora cante e dance.

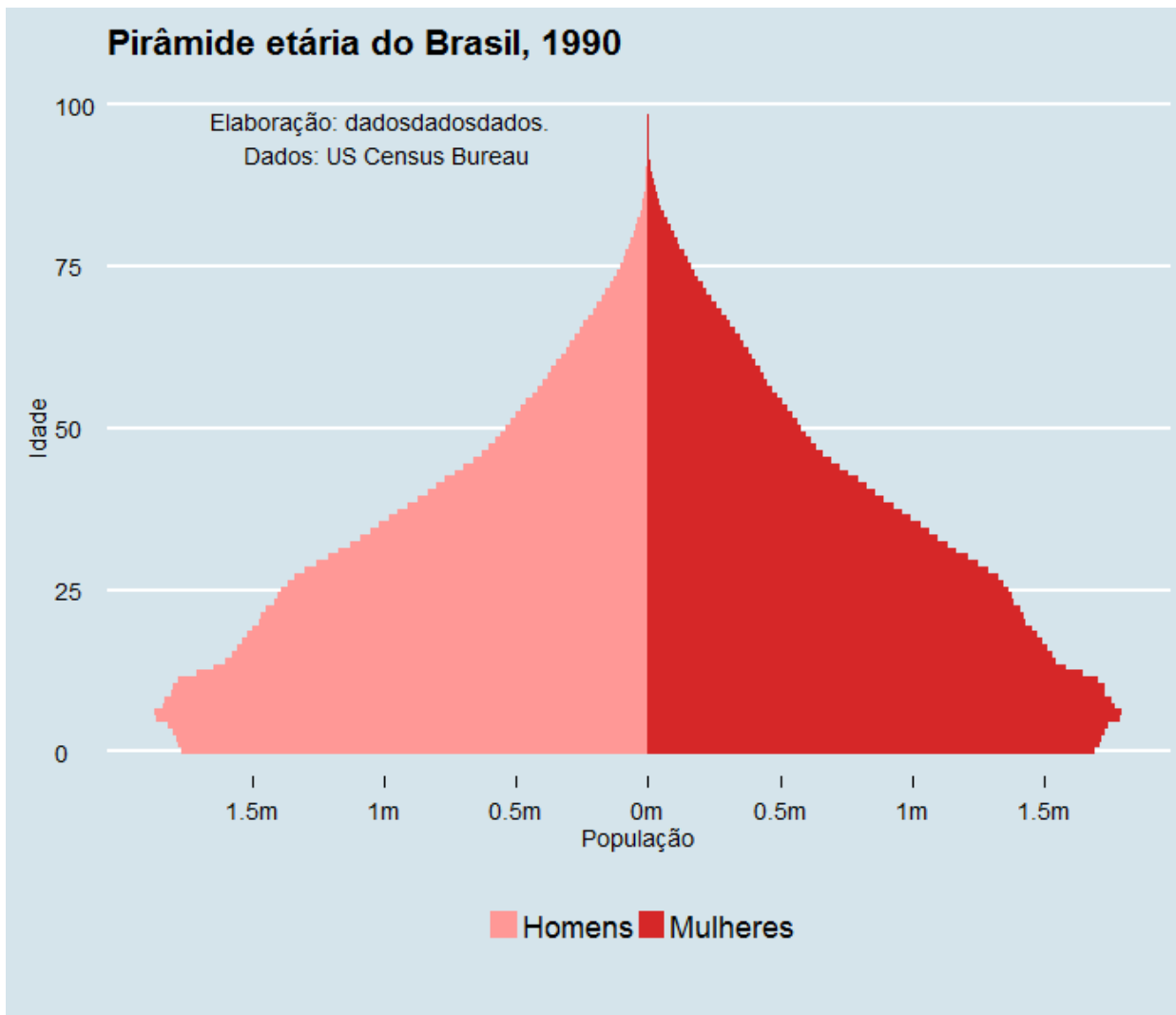
Nas fábulas de Esopo, são mostradas normas de conduta dos seres, ressaltando um moral para a história. No caso da Formiga e da Cigarra, a fábula aponta a importância:

- a) do individualismo na construção da sociedade.
- b) do trabalho e da poupança para a prevenção de tempos difíceis.
- c) da caridade para a conquista da fraternidade.
- d) da preguiça como forma de vida.
- e) da harmonia entre os diferentes seres.

Questão 16

Observe na figura abaixo a evolução da pirâmide demográfica brasileira entre os anos de 1990 a

2050.



O estreitamento da base, provocada pela redução do número de nascimentos (taxa de fecundidade) e o ganho de altura da pirâmide, causada pelo aumento da expectativa de vida da população, estão sendo expressivos ao longo deste período. Segundo dados do Instituto Brasileiro de Geografia e Estatística (IBGE), a fecundidade das mulheres brasileiras vem caindo rapidamente, conforme pode ser notado na tabela a seguir.

Ano	Número de filhos por mulher no Brasil
1960	6,3
1970	5,6
1991	2,9
2000	2,4
2010	1,9

Em paralelo, a expectativa de vida do brasileiro passou de 62,5 anos em 1980 para 75, 2 anos em 2015.

Esta conjugação de fatores provoca o chamado "bônus demográfico". Este fenômeno ocorre quando há, proporcionalmente, um maior número de pessoas em idade ativa (15-64 anos) aptas a trabalhar, do que crianças/adolescentes e idosos (menores de 15 anos e maiores de 65). Assim, quando este evento ocorre em uma sociedade em desenvolvimento, significa que ela poderá dispor de mais força de trabalho do que pessoas inativas, que, em diferentes níveis, são mais dependentes do Estado, como é o caso dos aposentados. Ou seja, há um excedente de pessoas para produzir e pagar impostos. Por outro lado, o efeito vai se esgotando à medida que a população envelhece. Diz-se, então, que a "janela do bônus demográfico fechou" e a tendência é que as novas gerações sejam menos numerosas, afunilando-se ainda mais a base da pirâmide.

A partir deste referencial, analise as quatro assertivas abaixo e verifique se elas são verdadeiras ou falsas.

- I. Considerando-se o fenômeno do bônus demográfico pode-se dizer que a sua ocorrência é benéfica para um país como o Brasil, pois tende a colaborar com o aumento da renda per capita da sociedade;
- II. A ocorrência da "janela do bônus demográfico" no Brasil é um período propício para que reformas na estrutura do estado - sobretudo da Previdência - sejam feitas de modo a se antecipar o efeito de uma população idosa mais numerosa no futuro.
- III. Países asiáticos como China, Japão, Coreia do Sul e Cingapura passaram pelo período de bônus demográfico e experimentaram momentos de elevado crescimento econômico entre 1960 e 1990. Estes são exemplos de que há uma relação determinística de causa e efeito entre a ocorrência do bônus demográfico e crescimento econômico.
- IV. Ganhos de produtividade são fundamentais para um país se preparar para o fim da janela do bônus demográfico. São estes ganhos que possibilitarão que menos trabalhadores produzam mais e melhor para suprir a demanda de um grupo de idosos cada vez maior.

Assinale a alternativa correta:

- a) Apenas as alternativas I e IV são verdadeiras.
- b) Apenas as alternativas I, II e IV são verdadeiras
- c) Apenas as alternativas I, II e III são verdadeiras
- d) Apenas as alternativas II e III são verdadeiras
- e) Todas as alternativas são verdadeiras

Questão 17

Em novembro de 2017 vimos o percentual de famílias que não conseguiram quitar suas dívidas na data do vencimento crescer em 20,4%, maior percentual desde maio de 2012. Este dado é mais um dos reflexos da crise econômica enfrentada pelo Brasil nos últimos 2 anos. Considere uma família que possui dívida indexada ao crédito rotativo a uma taxa de 373% ao ano.

Qual a melhor alternativa para auxiliar a família a resolver seu problema financeiro? Marque a alternativa mais correta.

Fonte: <http://www.valor.com.br/brasil/5258647/inadimplencia-das-familias-recua-em-dezembro-mas-fecha-2017-em-alta>

- a) Se organizar financeiramente e passar a poupar para conseguir pagar a dívida.
- b) Buscar uma modalidade de empréstimo mais barata no banco para que a família possa pagar a dívida do cartão.
- c) Os outros membros da família arranjam emprego.
- d) Retirar dinheiro de eventuais aplicações financeiras que a família venha a ter.
- e) Pedir dinheiro emprestado a familiares e amigos.

Questão 18

George é um jovem investidor que, muito dedicado às suas finanças pessoais, esta desenvolvendo um plano para realizar uma viagem que quer muito fazer. Para isto, ele necessita que seu capital dobre em determinado tempo.

Considerando que George é um investidor agressivo e que possui seu portfólio de investimentos lhe

proporcionando em média 2,1% ao mês, determine em quantos anos George irá poder realizar sua viagem.

- a) 10 anos
- b) 5 anos
- c) 3,5 anos
- d) 2,5 anos
- e) 2 anos

Questão 19

Por mais ficcionais que sejam, as narrativas literárias muitas vezes são influenciadas pelas transformações socioeconômicas vividas pelos autores. Um exemplo disso pode ser percebido na obra *Utopia*, do inglês Thomas Morus (1478-1535).

"Os carneiros", respondeu Rafael, "vossos carneiros. Esses animais são, habitualmente, bem mansos e pouco comem. Mas disseram-me que, no momento, mostram-se tão intratáveis e ferozes que devoram até os homens, devastam os campos, casas e cidades. Efetivamente, em todos os pontos do reino onde se obtém a mais fina lã, portanto a mais preciosa, os senhores, os nobres e até santos abades, não se contentam mais com os rendimentos e o produto que seus antepassados costumavam retirar de seus domínios. Não lhes é mais suficiente viver na preguiça e nos prazeres; estes homens, que nunca foram úteis à sociedade, querem ser ainda, positivamente, nocivos. Não deixam nenhuma parcela de terra para ser lavrada; toda ela transformou-se em pastagens. Derrubam casas, destroem aldeias e, se poupam as igrejas é, provavelmente, porque servem de estábulos a seus carneiros. Essas excelentes pessoas transformam em deserto as habitações, e tudo que era cultivado; como se as florestas e as terras reservadas à caça já não prejudicassem bastante a agricultura."

Morus, Thomas. *Utopia*. Brasília: UnB/Instituto de Pesquisa de Relações Internacionais, 2004. p. 17.

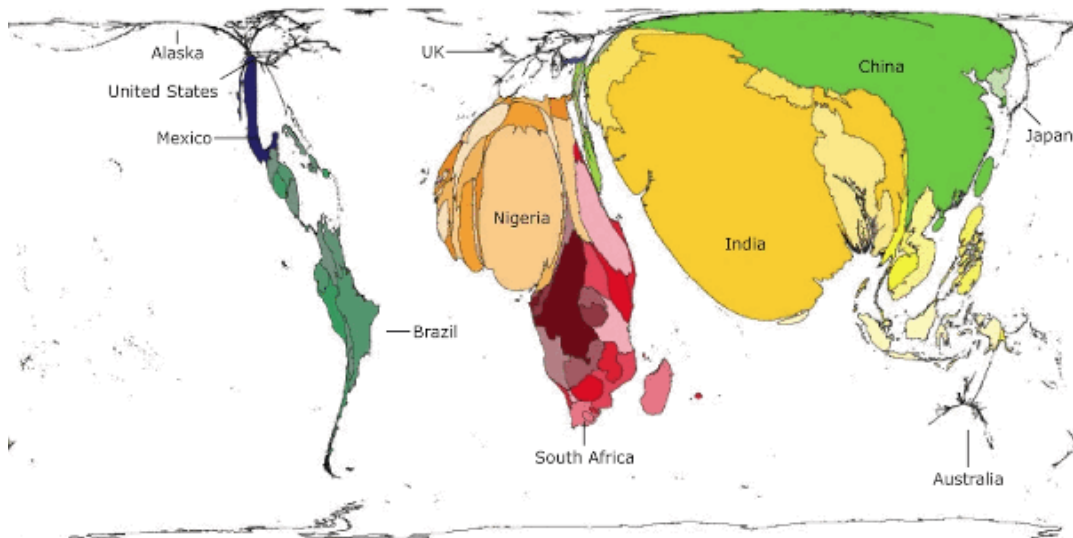
Por trás da ideia de os carneiros, *que devoram até os homens*, podemos perceber as transformações econômicas redundantes do(a):

- a) colbertismo francês.
- b) desenvolvimento fabril.
- c) ascensão do comércio lanífero.
- d) da necessidade de grande mão-de-obra na criação de ovelhas.
- e) metalismo inglês.

Questão 20

Observe a figura abaixo. Ela redefine o mapa mundi, considerando que a área dos países é proporcional ao número de pessoas que vivem com menos de uma determinada quantia em dólares por dia.

Worldmapper.org: An animation, from the world sized by people living on less than \$1 a day, to those earning over \$200



Less than \$1 a day

www.worldmapper.org

A partir dela, analise as quatro assertivas abaixo e verifique se elas são verdadeiras ou falsas.

- I. China e Índia são os países com o maior número de pessoas vivendo com 1 dólar ou menos, apesar do grande desenvolvimento econômico recente.
- II. O país com melhor distribuição de renda no continente africano é a África do Sul e o pior é a Nigéria.
- III. O Brasil possui uma boa distribuição de renda, pois sua área mantém-se praticamente constante a medida que os valores aumentam.
- IV. Os Estados Unidos, juntamente com o Reino Unido, ocupam as melhores posições neste ranking mundial pois possuem uma elevada proporção da sua população que vive confortavelmente (vivem com mais de 200 dólares por dia).

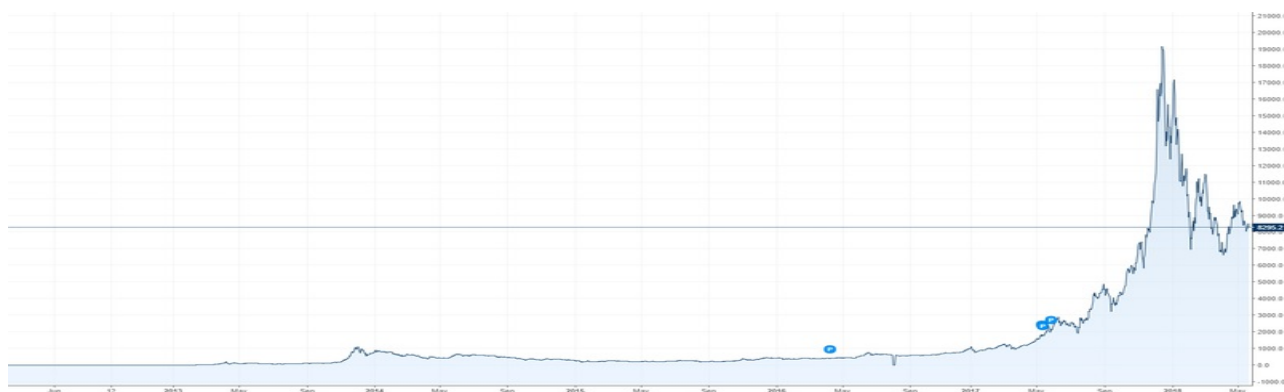
Após, assinale a alternativa correta:

- a) Apenas as alternativas I e II são verdadeiras.
- b) Apenas as alternativas II e III são verdadeiras.
- c) Apenas as alternativas I, II e IV são verdadeiras.
- d) Apenas as alternativas I, II e III são verdadeiras.
- e) Todas as alternativas são verdadeiras.

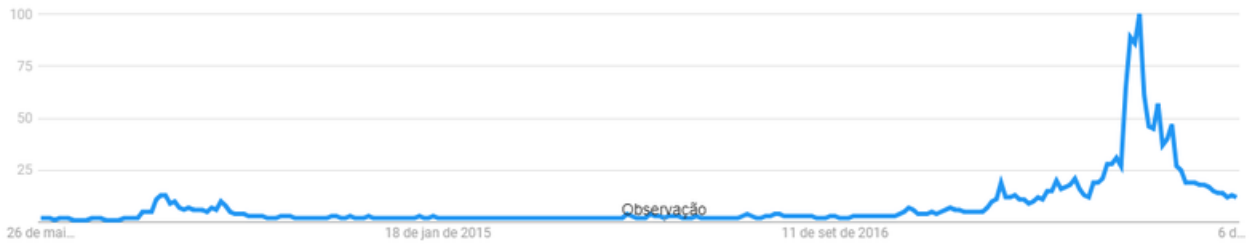
Questão 21

Análise as figuras a seguir.

Histórico de preços dos últimos 5 anos do Bitcoin em dólares:



Histórico do volume de pesquisas no Google sobre Bitcoin nos últimos 5 anos:



A partir destas imagens e com base nos conceitos de profecia autorrealizável e comportamento de manada responda:

I. Faz sentido dizer que o preço do Bitcoin cresceu por investidores acreditarem que este ativo tivesse valor, mesmo que não se tivesse clareza sobre o quanto, o que resultou em o preço do papel passar a realmente ter o valor idealizado.

II. É possível afirmar que tanto o movimento de valorização quanto de desvalorização são frutos de uma reação em grupo e de mesmo sentido, resultante de uma assimetria de informações.

III. Não é possível afirmar que o comportamento do volume de pesquisas gerou o comportamento de preços, e o contrário também é verdadeiro.

Quais afirmativas estão corretas?

- a) Apenas I.
- b) Apenas II.
- c) I e III.
- d) II e III.
- e) I, II e III.

Questão 22

Qual o atual nome da Bolsa de Valores brasileira?

- a) Bolsa de valores paulista
- b) Ibovespa
- c) Bovespa
- d) BM&FBovespa
- e) B3

Questão 23

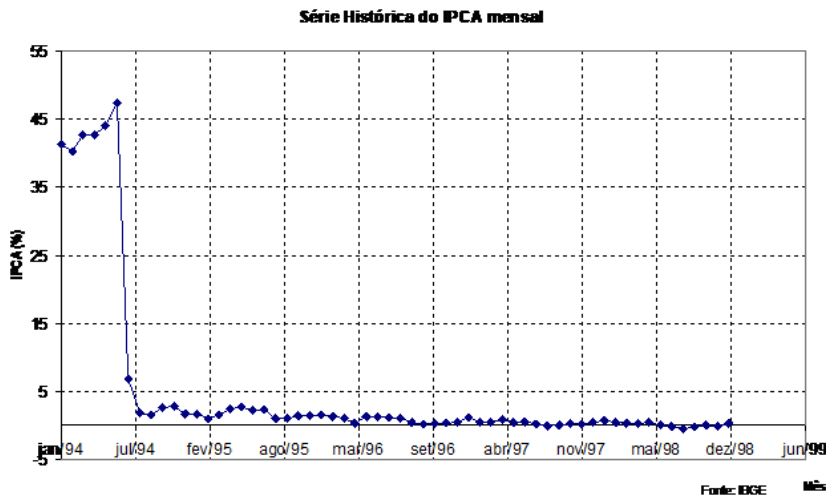
Qual o Estado que mais contribui para o PIB brasileiro?

- a) São Paulo
 - b) Rio de Janeiro
 - c) Rio Grande do Sul
 - d) Santa Catarina
 - e) Paraná
-

Questão 24

Assista ao vídeo abaixo e, a seguir, observe o comportamento do índice de inflação medido entre os anos de 1994 a 1998.

(link direto: <http://www.youtube.com/watch?v=JVcDZOIIMBk>)



A partir destas informações, analise as três assertivas abaixo e verifique se elas são verdadeiras ou falsas.

- I. A partir da implementação do "Plano Real" (1994), o comportamento do IPCA ao longo do período compreendido entre 1994-1998 se manteve bastante estável, propiciando uma maior previsibilidade sobre o comportamento dos preços.
- II. Em nenhum momento no referido período houve deflação medida pelo índice oficial.
- III. Caso um funcionário tenha sido contratado em 1º de junho de 1994 e, ao final do mês, tenha recebido seu salário reajustado em 45%, podemos dizer que - considerando o índice oficial de inflação - ele não experimentou nenhuma perda de poder aquisitivo.

Assinale a alternativa correta:

- a) Apenas as alternativas I e II são verdadeiras.
- b) Apenas as alternativas II e III são verdadeiras
- c) Apenas as alternativas I e III são verdadeiras

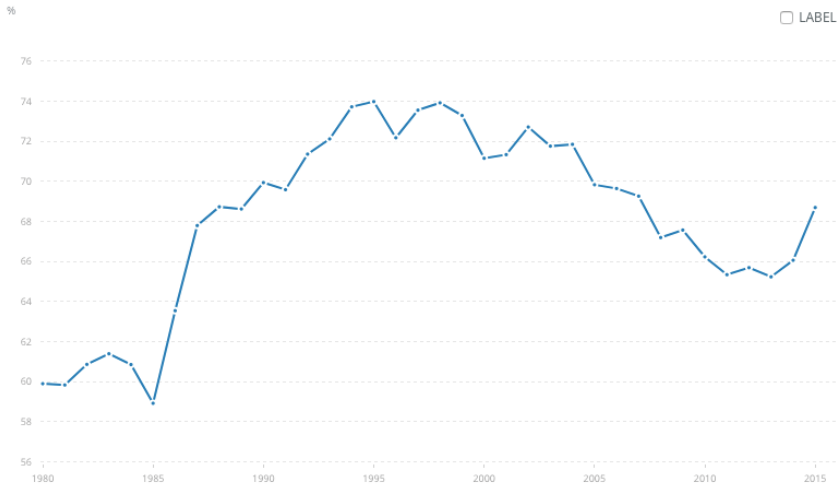
d)Todas as alternativas são verdadeiras

e)Nenhuma das anteriores.

Questão 25

Veja com atenção o gráfico a seguir.

Exportações de manufaturados (% das exportações de mercadorias): 1980 a 2015



Fonte: <http://data.worldbank.org/indicador/TX.VAL.MANF.ZS.UN?end=2015&start=1980>

Ele representa a variação percentual de grande parte da exportação de mercadorias no comércio mundial. Ali constam produtos manufaturados dos mais variados setores: químicos, maquinários, transporte, metalurgia, etc.

A partir dos dados presentes no gráfico e em seus conhecimentos, podemos afirmar que ele ajuda a visualizar o impacto no comércio mundial:

- a)da globalização da economia e o decorrente aumento do comércio entre as nações.
- b)da necessidade e formação de acordos multilaterais de comércio, que irão formar a OMC (Organização Mundial de Comércio).
- c)dos processos de integração regional - como União Europeia, NAFTA, MERCOSUL e ASEAN.
- d)da expansão da industrialização e do comércio para a América Latina, Europa Oriental e Extremo Oriente, processo acentuado a partir dos anos 80.
- e)todas as alternativas anteriores estão corretas.

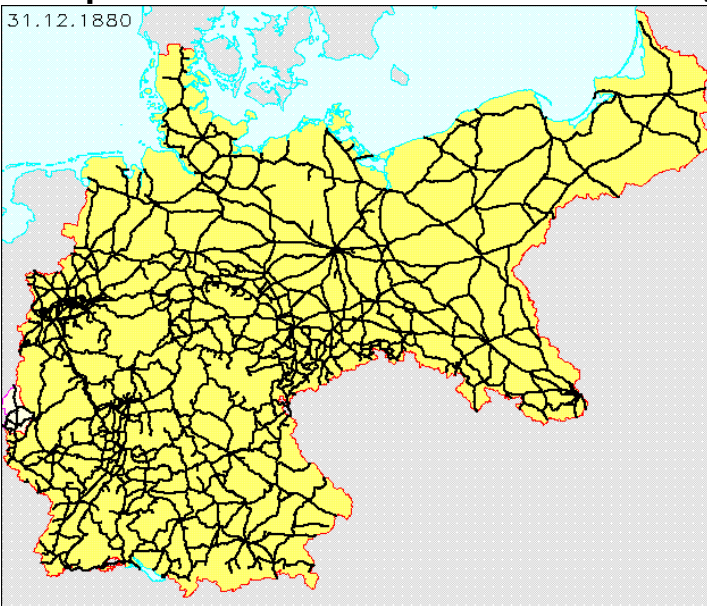
Questão 26

A infraestrutura de um país está relacionada às atividades que dinamizam a sua economia. Um interessante exemplo dá-se por meio da análise entre a malha ferroviária e a base econômica, nos dois exemplos a seguir.

Exemplo 01 - Malha ferroviária do Uruguai (fins XIX, início XX)



Exemplo 02 - Malha ferroviária da Alemanha (1880)



â€

A partir da análise dos mapas acima, podemos afirmar:

- a) as linhas férreas de ambos os mapas foram condicionadas, primordialmente, por fatores geoclimáticos.
- b) a força do comércio com os países vizinhos fez com que a Alemanha tivesse maior quantidade de ferrovias vinculadas a outros países do que ao transporte interno.
- c) as linhas férreas de ambos os mapas foram condicionadas, primordialmente, por fatores defensivo-militares.
- d) o mapa ferroviário do Uruguai mostra a importância da exportação de produtos para o mercado externo; já as linhas de trem da Alemanha mostram a força do mercado interno.
- e) a qualidade tecnológica das linhas férreas alemãs explica a sua maior capilaridade comparativamente a das ferrovias uruguaias.

Questão 27


Classifique os ativos a seguir conforme seu perfil de risco.

Conservador: ativo de baixo risco.
Moderado: ativo de risco mediano.
Agressivo: ativo com alto grau de risco.

- a)
Poupança - conservador
Fundos de investimento de longo prazo - moderado
Derivativos - agressivo
- b) Poupança - moderado
Fundos de investimento de longo prazo - agressivo
Derivativos - conservador
- c) CDB - conservador
Fundos de investimento de longo prazo - agressivo
Derivativos - conservador
- d) CDB - agressivo
Fundos de investimento de longo prazo - moderado
Derivativos - conservador
- e) Poupança - moderado
Fundos de investimento de longo prazo - moderado
Derivativos - agressivo

Questão 28

Paralelamente ao início da Revolução Industrial, a Inglaterra do século XVIII passou pelos chamados “motins de fome”, os assim chamados períodos de escassez de alimentos. Como exemplo, houve uma crise alimentar de 1795 e 1796 gerou cerca de 170 tumultos em várias localidades distintas.



Nestes momentos em que a procura por alimentos (como pães, base da alimentação) era maior que a oferta, o aumento dos preços dos produtos por parte dos comerciantes ia de encontro ao interesse e ao consenso dos grupos populares. Esses últimos gostariam que os antigos costumes fossem conservados: isto é, os preços deveriam ser “justos” em um momento de carestia na compra dos alimentos.

Os populares pressionavam os grupos de produtores a fixar o preço dos alimentos a um valor que os mais necessitados pudessem comprá-los. De acordo com as antigas tradições, era uma *obrigação* frente à comunidade dos grupos abastados junto aos desfavorecidos.

Tal lógica se chocava com a nascente ideia de “livre mercado”, defendida pelos produtores/comerciantes. Esses últimos desejavam se libertar dessa responsabilidade frente à comunidade. Defendiam que os novos tempos demandariam mudanças: a flutuação dos preços ocorreria de acordo com a variação da relação oferta-procura nos mercados.

Com base no texto acima, podemos afirmar que, **EXCETO**:

a)na Inglaterra do século XVIII, a flutuação do preço das mercadorias não era marcada apenas pela lei da oferta e da procura.

b)o conceito de livre mercado não é natural – foi fruto de uma época e se chocou com tradições populares até então existentes.

c)os motins de fome cobravam obrigações sociais dos produtores para com os pobres.

d)os motins da fome mostram o confronto entre duas visões econômicas: a da defesa de tradições populares e a de livre comércio.

e)a noção de preço justo defendida pelos populares estava apoiada pela ideia liberal de livre mercado.

Questão 29

Agência Nacional de Energia Elétrica prevê bandeira tarifária amarela em junho

Segundo diretor-geral da Aneel, cenário quase não mudou em maio. Com isso, deve ser mantida cobrança de R\$ 1 adicional a cada 100 kWh de energia consumidos. Aneel divulga bandeira na sexta.

Por Laís Lis, G1, Brasília

22/05/2018 13h55 Atualizado há 8 horas

O diretor-geral da Agência Nacional de Energia Elétrica (Aneel), Romeu Rufino, afirmou nesta terça-feira (22) que a bandeira tarifária deve permanecer na cor amarela no mês de junho, o que significa uma cobrança extra de R\$ 1 a cada 100 quilowatts-hora (kWh) de energia consumida.

A bandeira do mês de junho será divulgada pela Aneel na próxima sexta-feira (25).

“Como já entramos no período seco, não deve ter muita novidade. Eu tenho observado semanalmente as variáveis e acredito que deve continuar pela amarela”, disse. “Todo o cenário está na linha de manter [a bandeira na cor amarela]”, declarou.

Em maio, a Aneel fixou a bandeira tarifária em amarela. Entre janeiro e abril de 2018, a bandeira tarifária ficou na cor verde, e não havia cobrança extra na conta de luz.

A manutenção da bandeira verde coincidiu com o período de chuvas mais intensas nas regiões Sudeste e Centro-Oeste, onde estão as principais hidrelétricas do país.

Com mais chuva, o armazenamento de água nos reservatórios sobe e o país usa ainda mais energia gerada por hidrelétricas, que é mais barata.

No início do período seco, aumenta a possibilidade de acionamento das usinas termelétricas para poupar água dos reservatórios. As térmicas geram uma energia mais cara, e o dinheiro arrecadado pela bandeira tarifária serve para cobrir o custo adicional com uso dessas usinas.

Entenda as bandeiras tarifárias



Infográfico atualizado em: 27/04/2018

Se o consumo mensal de uma família é de 500 kWh, conforme o diretor da Aneel, pode-se prever que:

- a) Ocorrerá um valor de cobrança extra no período de jan-mai/18 de R\$ 20,00.
 - b) Ocorrerá um valor de cobrança extra no período de fev-jun/18 de R\$ 20,00.
 - c) Ocorrerá um valor de cobrança extra no período de mar-jun/18 de R\$ 15,00.
 - d) Ocorrerá um valor de cobrança extra no período de fev-mai/18 de R\$ 5,00.
 - e) Ocorrerá um valor de cobrança extra no período de mar-jun/18 de R\$ 5,00.
-

Questão 30

Você empresta R\$ 1,00 para um banco a uma taxa diária i (número imaginário) em regime de juros compostos.

Quanto tempo leva para o banco lhe pagar R\$ 1,00 a mais do que pegou emprestado?

Recomendação: utilize a identidade de Euler.

- a) 1,56 ano
 - b) 3 anos
 - c) π anos
 - d) e^2 anos
 - e) Nenhuma das alternativas anteriores.
-

Questão 31

Toda vez que um produto é vendido por preços diferentes em lugares diferentes, pode existir aí uma oportunidade comercial (as vezes chamada de “arbitragem de preços”). Compra-se o produto no lugar mais barato, transporta-se ele para o lugar mais caro, e vende-se ali. Ou, se você é um produtor, você pode preferir vender seu produto onde ele é comprado pelo maior preço, maximizando seu lucro.

Tais forças de mercado tendem a equalizar os preços dos produtos em diferentes locais, quando considerados de forma líquida de impostos, custos de transporte e outros custos relacionados. Aumenta-se assim a oferta do produto onde ele é mais caro, e diminui-se a oferta do produto onde ele é mais barato, aproximando os preços até que a oportunidade de arbitragem se torne pequena.

Quanto mais fácil for o transporte desse produto, e mais internacional for seu alcance, mais a realidade se aproxima desse ideal. No mundo globalizado, alguns produtos são altamente negociados no mercado internacional, de forma que seus preços sejam ditados pela oferta e demanda global, e são praticamente iguais em todos os pontos do planeta (líquidos dos custos de transporte, impostos etc). Tais produtos são comumente chamados de *commodities*, pois cada item é praticamente equivalente a qualquer outro item da mesma categoria, indistintamente de quem o produziu (unidades individuais do produto são praticamente indistinguíveis entre si – uma propriedade chamada de fungibilidade). Nenhum produtor consegue individualmente ditar qual o preço global da commodity. Mesmo monopólios locais (como em um país), podem ser no contexto global apenas um produtor dentre dezenas de outros.

Outra característica de *commodities* é que seus preços são geralmente cotados em dólar – considerada uma moeda global – de forma que quando uma moeda local se desvaloriza vs. o dólar, o preço do produto em moeda local também parece encarecer.

Qual das alternativas abaixo contém apenas *commodities*?

- a) Celulares, computadores e carros.
- b) Serviços de limpeza, corte de cabelo, e advocacia.
- c) Petróleo, minério de ferro, e açúcar.
- d) Software e jogos de computador.
- e) Música, livros e filmes.

Questão 32

Jaime, juiz federal, recebe por mês um salário-base de R\$ 28.948,00, além de benefícios. Entre estes, consta o auxílio-moradia no valor de R\$ 4.378,00 por mês, apesar de já morar em um imóvel próprio avaliado em R\$ 2 milhões. Uma nova lei, entretanto, busca justiça ao garantir que apenas magistrados que não possuam imóvel próprio possam receber esse benefício. A expectativa é que essa lei seja aprovada na próxima semana, conforme amplamente noticiado.

Visando proteger seu estilo de vida e renda, Jaime teve uma ideia: poderia vender seu imóvel e locá-lo na sequência, a preços de mercado. Ao prometer a locação, facilitaria o próprio processo de venda para um investidor de longo prazo. No mercado, essas operações são conhecidas como *sale-and-lease-back*, praticadas principalmente por empresas que desejam se alavancar pela venda-e-relocação de sedes, escritórios, etc, e os contratos de locação podem ter duração de décadas.

Jaime fez a seguinte simulação:

Hipóteses

Valor do imóvel	R\$	2.000.000,00
Taxa de aluguel	%	0,50%
Aluguel do imóvel	R\$	10.000,00
Taxa de juros real da economia	IPCA + % p.a.	6,0%
Taxa de juros real da economia	IPCA + % p.m.	0,50%
Reatabilidade mensal de uma aplicação do valor do imóvel	R\$	10.000,00

Situação atual

Valorização do imóvel	R\$	-
(+) Auxílio-moradia	R\$	4.378,00
(-) Custo de moradia	R\$	-
(=) (a) Resultado com moradia	R\$	4.378,00

Situação após lei, continuando no imóvel

Valorização do imóvel	R\$	-
(+) Auxílio-moradia	R\$	-
(-) Custo de moradia	R\$	-
(=) (b) Resultado com moradia	R\$	-

Situação após lei, realizando venda-e-relocação

Reatabilidade da aplicação do valor do imóvel	R\$	10.000,00
(+) Auxílio-moradia	R\$	4.378,00
(-) Custo de moradia	R\$	(10.000,00)
(=) (c) Resultado com moradia	R\$	4.378,00
Diferença (a) - (c)	R\$	-

Tendo em vista a simulação acima, Jaime decidiu vender e relocar seu próprio imóvel. Assinale abaixo qual afirmação está mais correta.

- Jaime sempre optaria por vender e relocar o imóvel, pois não faz sentido abrir mão do auxílio moradia se é possível recebe-lo continuando morando no mesmo imóvel.
- Jaime, em sua simulação, supõe que seu imóvel não valoriza em termos nominais.
- Jaime poderia abrir mão do auxílio moradia, se passasse a acreditar que a valorização esperada de seu imóvel compensaria a perda do auxílio moradia.
- Todas estão corretas.
- Nenhuma está correta.

Questão 33

Robinson Crusóé está preso em uma ilha deserta, sozinho. Ele gasta duas horas para pescar um peixe, e precisa comer ao menos 3 peixes por dia para sobreviver. Um belo dia, ele tem uma ideia: se

eu trabalhar algumas horas a mais por dia indo atrás de cipó para fazer uma rede, passarei a poder pescar meus 3 peixes por dia em apenas 1 hora.

Podemos afirmar que:

- a) Crusoé acumulou capital, pois antes não tinha nada, e agora tem um novo bem material, a rede.
- b) Crusoé acumulou capital, pois a rede exigiu que Crusoé trabalhasse mais horas do que o necessário para sua subsistência.
- c) Crusoé acumulou capital, pois a rede torna Crusoé mais produtivo em sua atividade de pesca.
- d) Crusoé só poderia dizer que acumulou capital, se houvesse mais alguém para a qual ele pudesse vender os peixes adicionais que ele pescasse em sua rede.
- e) Crusoé não acumulou capital, pois o acúmulo de capital é uma característica do capitalismo, do qual Crusoé não faz parte.

Questão 34

A economia, ao estudar agentes racionais, não assume a postura de que todos os humanos são racionais o tempo todo, mas sim que agentes racionais são modelos úteis para explicar vários fenômenos. Paradoxalmente, ao se estudar o processo decisório de agentes racionais idealizados, a teoria econômica nos ensina a pensar e tomar decisões de forma mais racionais - o que cria um ciclo de retroalimentação em que o estudo da ciência econômica em si ajuda a aproximar o mundo real das teorias idealizadas. Isso não pode ser confundido, entretanto, com uma visão simplista de que toda a teoria econômica é na verdade uma grande profecia autorrealizável, em que o estudo de economia só funciona na medida em que as pessoas já acreditam na teoria econômica. Além disso, nem toda a teoria econômica tradicional precisa que seus agentes sejam perfeitamente racionais. Quais afirmações abaixo contém exemplos de conceitos da economia tradicional (não-comportamental) que independem da hipótese de agentes perfeitamente racionais:

- i. A teoria do mercado eficiente
- ii. A ideia de que preços são influenciados por oferta e demanda.
- iii. A ideia de que pessoas respondem a incentivos, custos e benefícios.

- a) Apenas a (i).
- b) Apenas a (i) e (iii).
- c) Apenas a (ii) e (iii).
- d) Todas as afirmações.
- e) Nenhuma afirmação.

Questão 35

Em Economia, quando uma empresa grande precisa tomar dinheiro do mercado para expandir seus negócios, ela lança um bônus ou título. Quem compra o bônus tem uma expectativa de retorno que é a taxa de juros embutida no título. Se uma empresa A vende um título de R\$100 que retorna ao investidor R\$105 em um ano e uma empresa B vende um título de R\$100 que retorna ao investidor R\$106 em um ano, nem todos os investidores preferirão comprar os títulos da empresa B, pois há um risco embutido nisso, que é o risco da empresa não poder honrar este compromisso e não pagar. Quando uma empresa lança um título ela ainda arca com o risco país, que é como o mercado vê, de modo único, o risco de negócio em um determinado país.

Suponha que sejam oferecidos os títulos a seguir:

Empresa A vende títulos por R\$100 para serem pagos em um ano por R\$108. A probabilidade da empresa A pagar é 60%.

Empresa B vende títulos por R\$500 para serem pagos em um ano por R\$540. A probabilidade da

empresa B pagar é 70%.

Empresa C vende títulos por R\$300 para serem pagos em um ano por R\$320. A probabilidade da empresa C pagar é 80%.

Empresa D vende títulos por R\$200 para serem pagos em um ano por R\$210. A probabilidade da empresa D pagar é 100%.

Assinale a alternativa incorreta:

- a) para um investidor altamente conservador, os títulos da empresa D são os mais atraentes, embora tenham a menor taxa de retorno.
- b) o investidor mais audacioso comprará títulos da empresa B.
- c) a diferença entre os títulos da empresa A e da empresa B está apenas no risco, pois ambos acenam com a mesma taxa de retorno ao investidor.
- d) uma estratégia comum de investimento é diversificar o risco e comprar títulos de diferentes empresas. O risco de uma empresa não pagar pode ser compensado pelo pagamento de outra. Se todo o investimento for feito em títulos da mesma empresa, a perda, no caso de não pagamento, é bem maior.
- e) o retorno esperado para quem investe nos títulos da empresa A é de 8% ao ano, em qualquer cenário.

Questão 36

A cesta básica é uma combinação de produtos tidos como essenciais para que uma família sobreviva em condições mínimas de decência. Admita que em uma determinada semana, a cesta básica tenha aumentado 1,12%, e que, nesta semana, o aumento tenha sido atribuído exclusivamente a participação dos alimentos, que subiram 1,6% neste período. Pede-se determinar qual o peso dos alimentos na composição da cesta básica?

- a) 50%
- b) 60%
- c) 70%
- d) 75%
- e) 80%

Questão 37

Uma companhia aérea faz uma promoção para voos em aeronaves com 100 lugares: "A passagem custa R\$50 para cada lugar vago na aeronave". Com isso, estimula as pessoas que querem viajar a convidarem outras pessoas para viajar também, pois isso baixa o custo da passagem. Mesmo com o desconto no preço da passagem, a estratégia é vencedora para a empresa, desde que a aeronave não tenha uma ocupação muito alta (se ela lotar, por exemplo, o custo da passagem zera, e empresa não tem faturamento algum). Sabe-se também que há um custo adicional de R\$100 para cada passageiro embarcado no trecho (pois com a aeronave mais pesada, mais combustível é consumido). Existem também despesas fixas para cada vôo, mas este dado não está disponível.

Qual o número ótimo de passageiros para maximizar o lucro da empresa?

- a) 48
- b) 49
- c) 50
- d) 51
- e) 52

Questão 38

Existe uma tendência comum, na economia, de que o preço dos produtos e serviços vá aumentando

com o tempo. Que nome se dá a esse fenômeno?

- a) Inflação
- b) Deflação
- c) Histerese
- d) Indexação da moeda
- e) Crise

Questão 39

Na Alemanha pós I Guerra Mundial houve um cenário de hiperinflação. Entre 1914 e 1923, os preços lá subiram **143 trilhões por cento**. Seria como se um chocolate de R\$ 5 passasse a custar R\$12 trilhões em 2027.



Veja a tabela:

Desvalorização do marco alemão diante do dólar	
Período	Relação dólar/marco
1914	1/ 4,2
1919	1/ 8,9
1923 (jan.)	1/ 18 mil
1923 (ago.)	1/ 4,6 milhões
1923 (nov.)	1/ 4 bilhões

A inflação reflete em média, o quanto os preços dos bens de consumo sobem. Se não há aumento de salário, há perda de poder aquisitivo. Entretanto, é possível que haja aumento do poder aquisitivo, desde que, em média, salários subam mais do que a inflação.

Imagine um país onde a inflação anual foi de 30%, mas os salários subiram, em média, 50% durante o mesmo período. Qual foi o aumento do poder aquisitivo da população neste ano?

- a) 20%
- b) 16,66%
- c) 50%
- d) 10%
- e) 15%

Questão 40

Machado de Assis, além de talentoso escritor, conseguiu retratar nas suas obras acontecimentos

marcantes vividos no Brasil na passagem do século XIX ao XX.

Um exemplo pode ser encontrado em seu livro, *Esaú e Jacó*, lançado em 1904. No capítulo LXXIII, *Um Eldorado*, ele faz a seguinte descrição:

A capital oferecia ainda aos recém-chegados um espetáculo magnífico. Vivia-se dos restos daquele deslumbramento e agitação, epopeia de ouro da cidade e do mundo, porque a impressão total é que o mundo inteiro era assim mesmo. Certo, não lhe esqueceste o nome, _____, a grande quadra das empresas e companhias de toda espécie. Quem não viu aquilo não viu nada. Cascatas de ideias, de invenções, de concessões rolavam todos os dias, sonoras e vistosas para se fazerem contos de réis, centenas de contos, milhares, milhares de milhares, milhares de milhares de milhares de contos de réis. Todos os papéis, aliás ações, saíam frescos e eternos do prelo. Eram estradas de ferro, bancos, fábricas, minas, estaleiros, navegação, edificação, exportação, importação, ensaques, empréstimos, todas as uniões, todas as regiões, tudo o que esses nomes comportam e mais o que esqueceram. Tudo andava nas ruas e praças, com estatutos, organizadores e listas. Letras grandes enchiam as folhas públicas, os títulos sucediam-se, sem que se repetissem, raro morria, e só morria o que era frouxo, mas a princípio nada era frouxo. Cada ação trazia a vida intensa e liberal, alguma vez imortal, que se multiplicava daquela outra vida com que a alma acolhe as religiões novas. Nasciam as ações a preço alto, mais numerosas que as antigas crias da escravidão, e com dividendos infinitos. Pessoas do tempo, querendo exagerar a riqueza, dizem que o dinheiro brotava do chão, mas não é verdade. Quando muito, caía do céu.

O preenchimento correto da lacuna acima é:

- a) ciclo do ouro.
- b) ciclo do café.
- c) encilhamento.
- d) *crack* da Bolsa de Nova Iorque.
- e) industrialização.

Questão 41

Em 1995 foi lançado o filme “Terra Estrangeira”. Dirigido por Daniela Thomas e Walter Salles, a trama se passa nos anos 90. Sem perspectiva de vida num Brasil tomado pelo caos econômico, Paco – personagem principal – decide viajar para Portugal após a morte da mãe, levando uma misteriosa encomenda. Em Lisboa, ele conhece Alex, brasileira namorada de Miguel, todos envolvidos num esquema de contrabando, que vai tornar suas vidas em um pesadelo.

No início da trama, a personagem vivida pela atriz Laura Cardoso assiste pela TV ao anúncio feito pela então Ministra da Economia, Zélia Cardoso de Mello. A ministra anuncia o plano econômico que tem, entre as suas medidas, o confisco de ativos depositados nos bancos. A atuação da atriz simboliza o quão impactante foi o anúncio desse plano econômico para a população brasileira.

Veja com atenção o trecho do filme “Terra Estrangeira” (de **15:00 até 16:45**):

(link direto: <http://youtu.be/ENvNXqiCgCI?t=15m>)

A cena faz referência ao anúncio de qual plano econômico?

- a) Plano Cruzado
 - b) Plano Bresser
 - c) Plano Verão
 - d) Plano Collor
 - e) Plano Real
-